

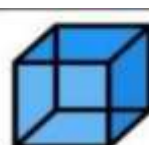
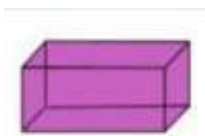
# योगात्मक आकलन द्वितीय 2025-26

## Summative Assessment Second

### कक्षा – 3 विषय- गणित

नाम : ..... रोल न. : ..... प्राप्त ग्रेड : ..... दिनांक :

(1) नीचे बनी आकृति जैसी दिखने वाली वस्तुओं के नाम लिखिए -



\_\_\_\_\_

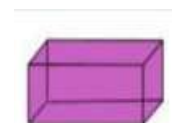
\_\_\_\_\_

\_\_\_\_\_

\_\_\_\_\_

रफ कार्य

(2) नीचे दी गई आकृतियों में कितने कोने एवं किनारे हैं ? चित्र देखकर लिखिए -



कोने -----  
किनारे .....




कोने .....  
किनारे .....



(3) नीचे दी गई सारणी को पूर्ण कीजिए -

संख्या	सैकड़ों	दहाई	इकाई
224	2	2	4
198			
376			
402			
520			
677			

(4) बिल्ली ने पहली छलांग 80 मोतियों की और दूसरी छलांग 20 मोतियों की लगाई तो कुल ..... मोती हुए -



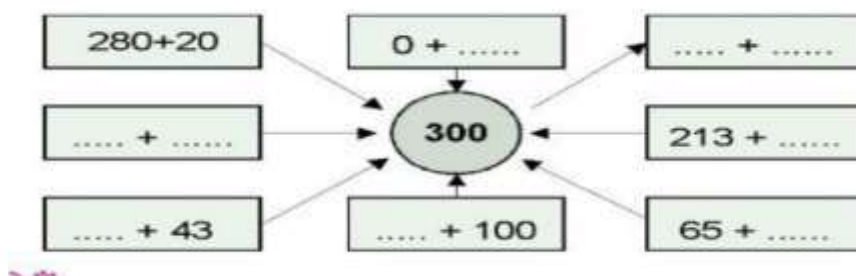
उत्तर - कुल मोती हुए - .....

(5) रिक्त स्थान में ठीक पहले वाली संख्या लिखिए-

रफ कार्य

100	101		51		177
	125		143		165
	119		151		60
	198		190		134

(6) 250 में 50 जोड़ने पर 300 होता है, क्या आप भी ऐसे और जोड़ बना सकते हैं, जिनको जोड़ने पर 300 प्राप्त हो ?



(7) निम्न संक्रियाओं को हल कीजिए -

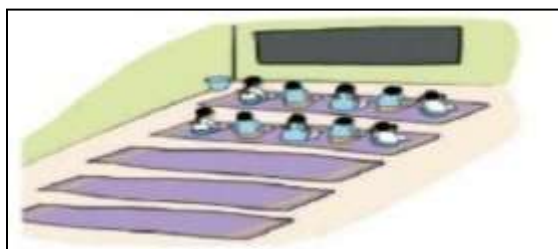
$$\begin{array}{r} 2 \quad 3 \quad 4 \\ + 1 \quad 4 \quad 2 \\ \hline \end{array}$$

$$\begin{array}{r} 1 \quad 2 \quad 2 \\ + 3 \quad 5 \quad 8 \\ \hline \end{array}$$

$$\begin{array}{r} 4 \quad 8 \quad 0 \\ - 1 \quad 3 \quad 1 \\ \hline \end{array}$$

$$\begin{array}{r} 3 \quad 0 \quad 2 \\ - \quad 4 \quad 9 \\ \hline \end{array}$$

(8) चित्र को देखकर ज्ञात कीजिए कि पांच दरियों पर कितने बच्चे बैठ पाएंगे ?



उत्तर →

Teacher's remark

grade :

☑ - The student has an advanced level of understanding of the skill assessed.

☒ - The student has a moderate understanding of the skill on the assessment & need some help.

☐ - The student has a beginner level understanding, needs special teacher help.

Teacher's sig